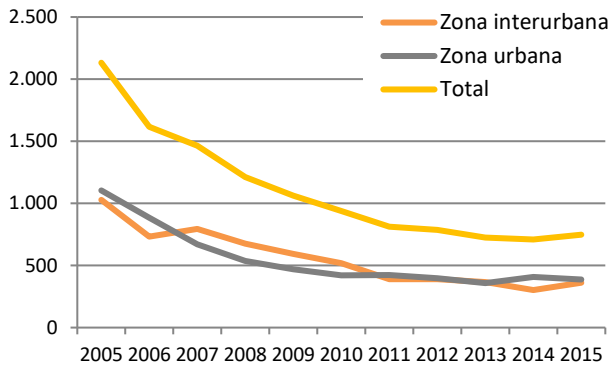


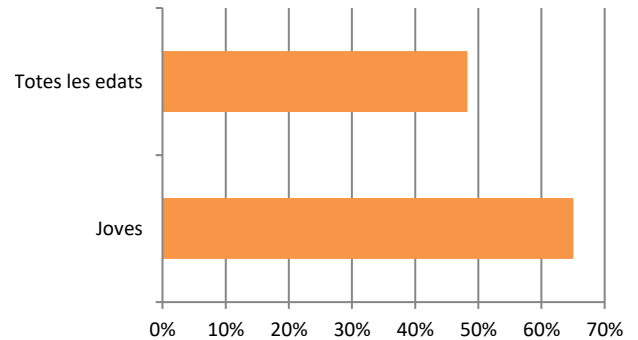
Activitat 1: L'ANÀLISI

A partir de l'anàlisi dels següents gràfics sobre l'accidentalitat entre els més joves, contesta les següents preguntes.

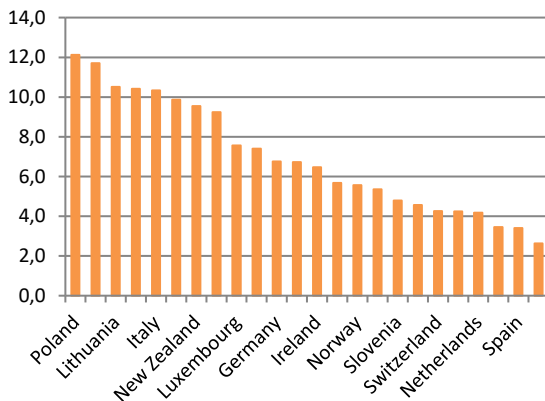
Gràfic 1. Evolució del nombre de morts i ferits greus joves en accident de trànsit a Catalunya, 2005-2015



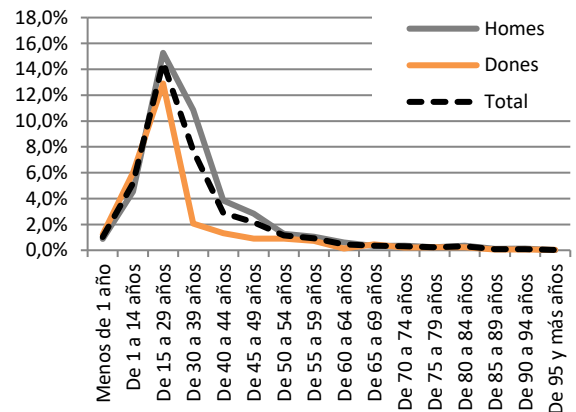
Gràfic 2. Taxa de reducció (2015 versus 2005) de la sinistralitat dels joves i de totes les edats



Gràfic 3. Taxa de risc (morts per 100.000 habitants a Europa), 2014



Gràfic 4. Percentatge que representen els accidents de trànsit sobre les causes de mort en cada franja d'edat i sexe a Catalunya, 2014



- Observa el **gràfic 1**. Compara el nombre de joves morts i ferits greus en accident de trànsit a Catalunya l'any 2005 i l'any 2015. Quina ha estat la diferència?
- Observa el **gràfic 2**. La taxa de reducció de la sinistralitat dels joves és major a la de la resta d'edats. Aquest és un aspecte positiu o negatiu? Argumenta la resposta.
- Observa el **gràfic 3**. En quina posició es troba Espanya en la taxa de risc de patir un accident en comparació amb la resta de països d'Europa? És positiva o negativa aquesta posició?
- Tenint en compte les dades que has observat en els gràfics, com creus que ha evolucionat durant aquests últims anys l'accidentalitat entre els més joves a Catalunya?
- Ara observa el **gràfic 4**. Creus que la problemàtica d'accidentalitat entre els més joves s'ha solucionat?